


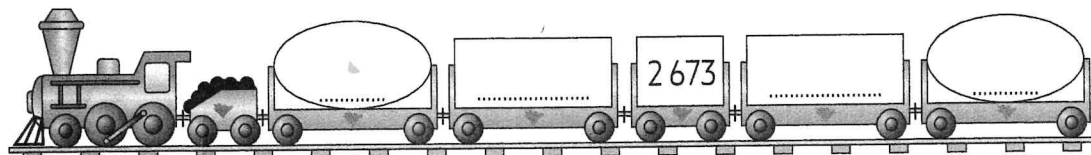
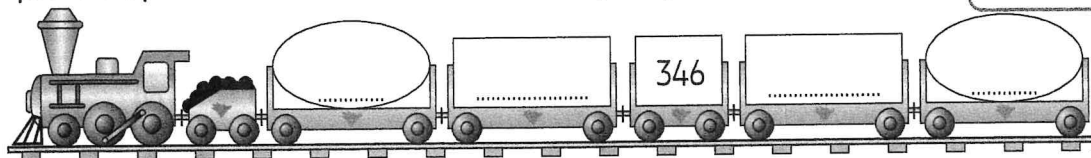
Compétences : Encadrer un nombre entre deux milliers, entre deux centaines ou entre deux dizaines les plus proches.

Prénom .....

Date .....

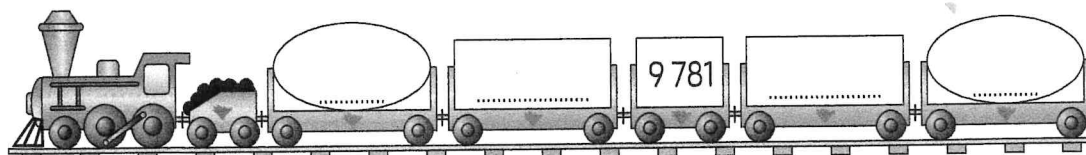


- 1** Encadre chaque nombre entre les deux dizaines les plus proches, puis entre les deux centaines les plus proches.

Écris les dizaines dans  
les rectangles et les  
centaines dans les ronds.



- 2** Encadre chaque nombre entre les deux centaines les plus proches, puis entre les deux milliers les plus proches.

Écris les centaines dans  
les rectangles et les  
milliers dans les ronds.



- 3** Je suis une des deux centaines les plus proches de 4 567 et tous mes chiffres sont des nombres pairs.

Qui suis-je ?

- 4** Je suis une des deux dizaines les plus proches de 3 592 et deux de mes chiffres sont des zéros.

Qui suis-je ?