

Compétence : Résoudre un problème de comparaison du champ additif.

Prénom


Date

1 Léa a ramassé 67 violettes et Manon en a ramassé 5 de moins.

Combien de violettes a ramassées Manon ?

.....

Manon a ramassé violettes.




2 Lucas a ramassé 25 champignons.
Théo a ramassé 15 champignons de plus que Lucas.

Combien de champignons a ramassés Théo ?

.....

Théo a ramassé champignons.




3 La fleuriste a vendu 50 roses jeudi.
C'est 10 roses de moins que vendredi.

Combien de roses a-t-elle vendues vendredi ?

.....

Vendredi, elle a vendu roses.



4 Boris possède 20 €. C'est 5 euros de plus que Loïc.

Combien d'euros possède Loïc ?

.....

Loïc possède €.

