

Retraire un nombre de deux chiffres

.....

.....

.....

.....

.....

Compétence	Calcul en ligne : Retraire un nombre de deux chiffres.
Calcul mental	Différences de nombres 10. Dire : « 9 - 2 » ; l'élève écrit 7.
Prérequis oral	Calculez 35 - 20.
Réinvestissement	Identifier un triangle rectangle.
Différenciation	Remédiation : Photofiche 59 R.

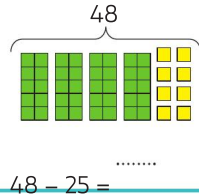
Découvrons

1 Léa calcule $48 - 25$. **Observe et complète.**

$25 = 20 + 5$
Je retranche d'abord 20, puis 5.



$$\begin{array}{r} 48 - 20 = \dots\dots\dots \\ \dots\dots - \dots\dots = \dots\dots\dots \\ 48 - 25 = \dots\dots\dots \end{array}$$



Vérifie avec ton matériel de numération.



Je m'entraîne

2 Calcule.

$36 - 23$	$45 - 14$	$56 - 32$
$36 - 20 = \dots\dots\dots$	$45 - 10 = \dots\dots\dots$	$56 - 30 = \dots\dots\dots$
$\dots\dots - 3 = \dots\dots\dots$	$\dots\dots - 4 = \dots\dots\dots$	$\dots\dots - 2 = \dots\dots\dots$
$36 - 23 = \dots\dots\dots$	$45 - 14 = \dots\dots\dots$	$56 - 32 = \dots\dots\dots$

Écris les mêmes nombres dans les zones de même couleur.



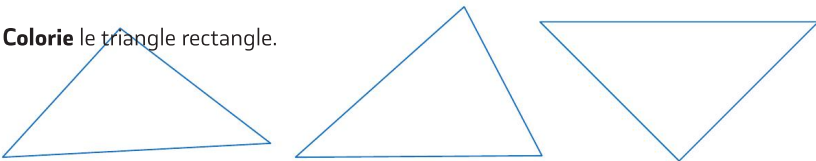
3 Un bus transporte 45 passagers. Au premier arrêt, 25 passagers descendent. Combien de passagers reste-t-il dans le bus ?

.....



Il reste passagers dans le bus.

4 Colorie le triangle rectangle.



MATÉRIEL D

Problèmes (5) : Se repérer sur un plan

.....

.....

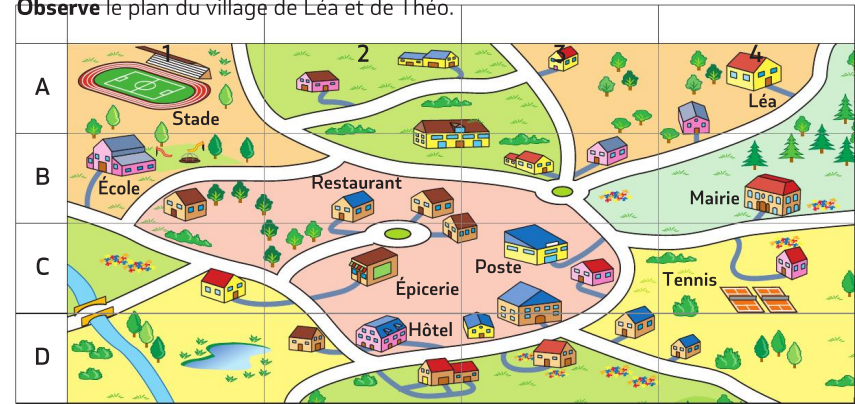
.....

.....

.....

Compétences	S'orienter et se déplacer en utilisant des repères.
Calcul mental	Différences de nombres < 10. Dire : « 8 - 6 » ; l'élève écrit 2.
Prérequis oral	Avez-vous déjà vu le plan d'une ville ? d'un quartier ?
Différenciation	Consolidation : Photofiche 60 C.

1 Observe le plan du village de Léa et de Théo.



La maison de Léa est dans la case (A ; 4).
Que trouve-t-on :
- dans la case (B ; 1) ?
- dans la case (C ; 3) ?
Dans quelle case se trouve :
- la mairie ? (..... ;)
- l'épicerie ? (..... ;)

Léa part de chez elle et va à l'école en passant devant l'hôtel. **Trace** son chemin.

2 Sur le plan, que trouve-t-on dans la case (C ; 4) ?

Dans quelle case se trouve :
- le restaurant ? (..... ;)
- l'hôtel ? (..... ;)

3 Théo habite la maison située dans la case (A ; 3). **Entoure-la**. Théo va à l'école en empruntant le chemin le plus court. **Trace-le**.